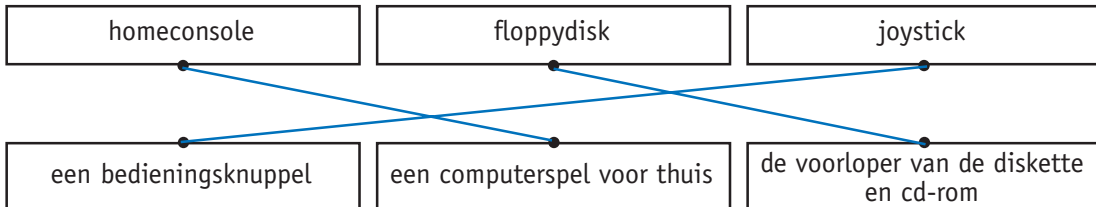




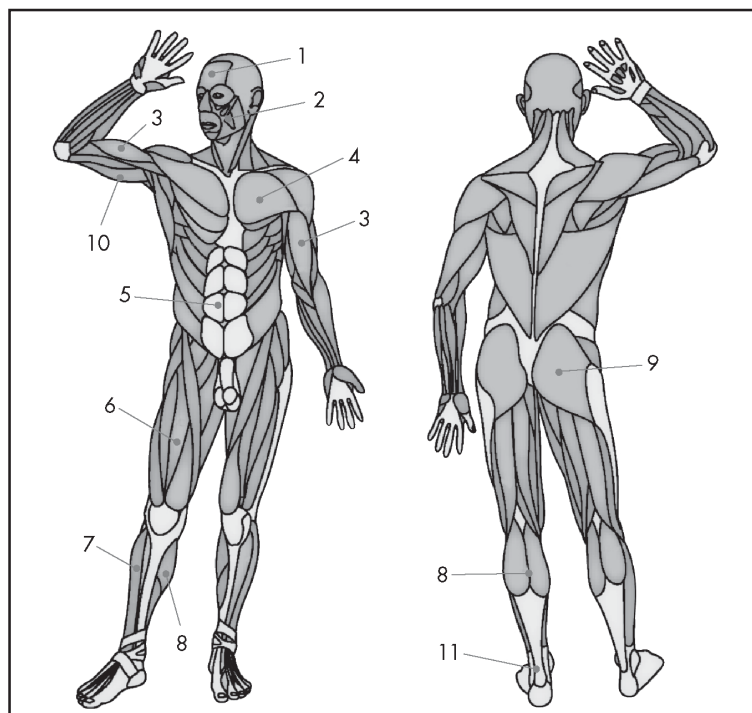
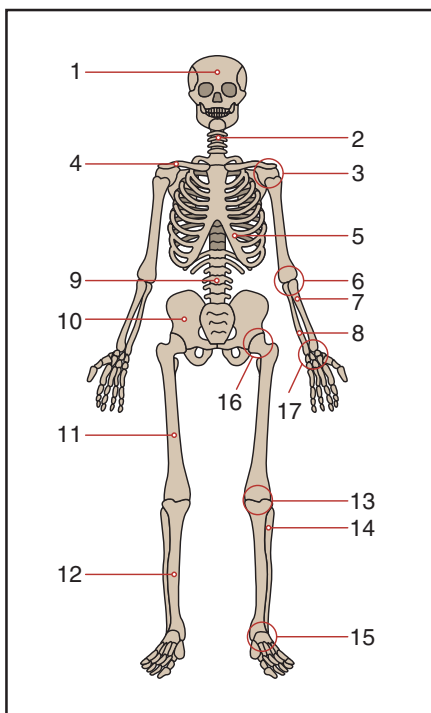
Naam: Datum:



Verbind het juiste begrip met de juiste verklaring.



Geef van 4 beenderen/gewrichten en 4 spieren naar keuze het correcte nummer in de lijst.



- | | | | |
|---------------------------|-------------------------|--------------------------|-------------------------|
| 5 ribben | 13 kniegewricht | 1 voorhoofdspier | 2 kauwspier |
| 1 schedel | 8 ellepijp | 3 armbuigspier | 4 borstspier |
| 7 spaakbeen | 15 enkelgewricht | 5 buikspier | 6 dijspier |
| 2 halswervels | 10 bekken | 7 scheenbeenspier | 8 kuitspier |
| 9 ruggenwervels | 16 heupgewricht | 9 bilspier | 10 armstrekspier |
| 3 schoudergewricht | 12 scheenbeen | 11 achillespees | |
| 11 dijbeen | 17 polsgewricht | | |
| 4 sleutelbeen | 14 kuitbeen | | |
| 6 ellebooggewricht | | | |

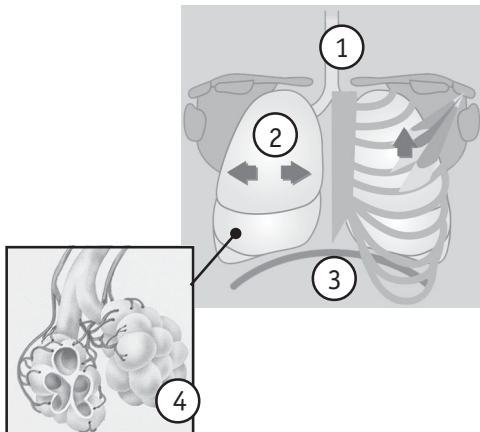


Markeer wat juist is.

- De (kleine/grote) bloedsomloop brengt het bloed van het hart naar de longen en terug.
- De (slagaders/haarvaten) zijn belangrijke bloedvaten die het bloed van het hart naar het lichaam sturen.
- De (kleine/grote) bloedsomloop stuurt het bloed doorheen je lichaam.



Plaats 2 cijfers naar keuze correct in het lijstje.

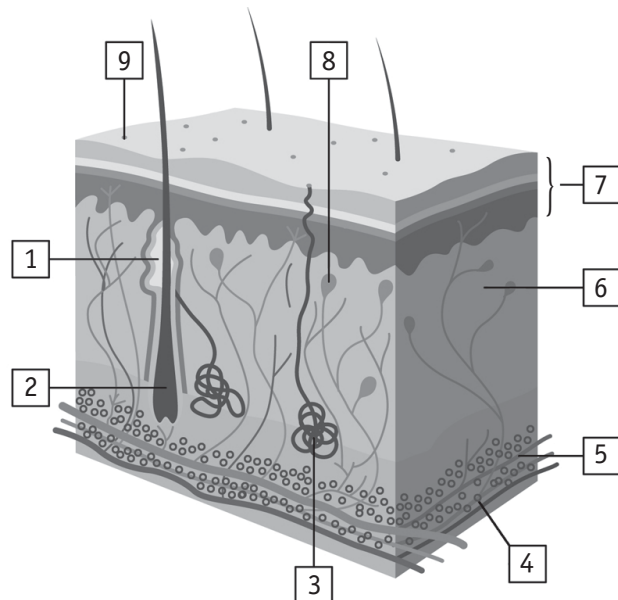


- | | |
|---|-------------|
| 4 | longblaasje |
| 3 | middenrif |
| 2 | long |
| 1 | luchtpijp |



Plaats 4 cijfers naar keuze correct in het lijstje.

- | | |
|---|--------------|
| 9 | porie |
| 1 | talgklier |
| 2 | haarwortel |
| 3 | zweetklier |
| 5 | bloedvat |
| 6 | lederhuid |
| 8 | zenuwvezel |
| 7 | opperhuid |
| 4 | vetlobbetjes |



Voor de ouders

Dit is een oefentoets met gesloten boek. Dat betekent dat je kind bij het afwerken van de opdrachten zijn/haar boeken niet mag raadplegen. Op die manier kun je controleren of je kind de inhoud van dit thema voldoende kent en begrijpt. Valt het resultaat tegen, dan doet je kind er misschien goed aan bepaalde delen van dit thema opnieuw te bekijken.